

Crucigrama de divisiones

NOMBRE: _____ FECHA: _____

Realiza las divisiones y escribe el resultado con letra donde le corresponde.

1. $400 \div 2 =$

2. $549 \div 3 =$

3. $398 \div 2 =$

4. $510 \div 5 =$

5. $606 \div 3 =$

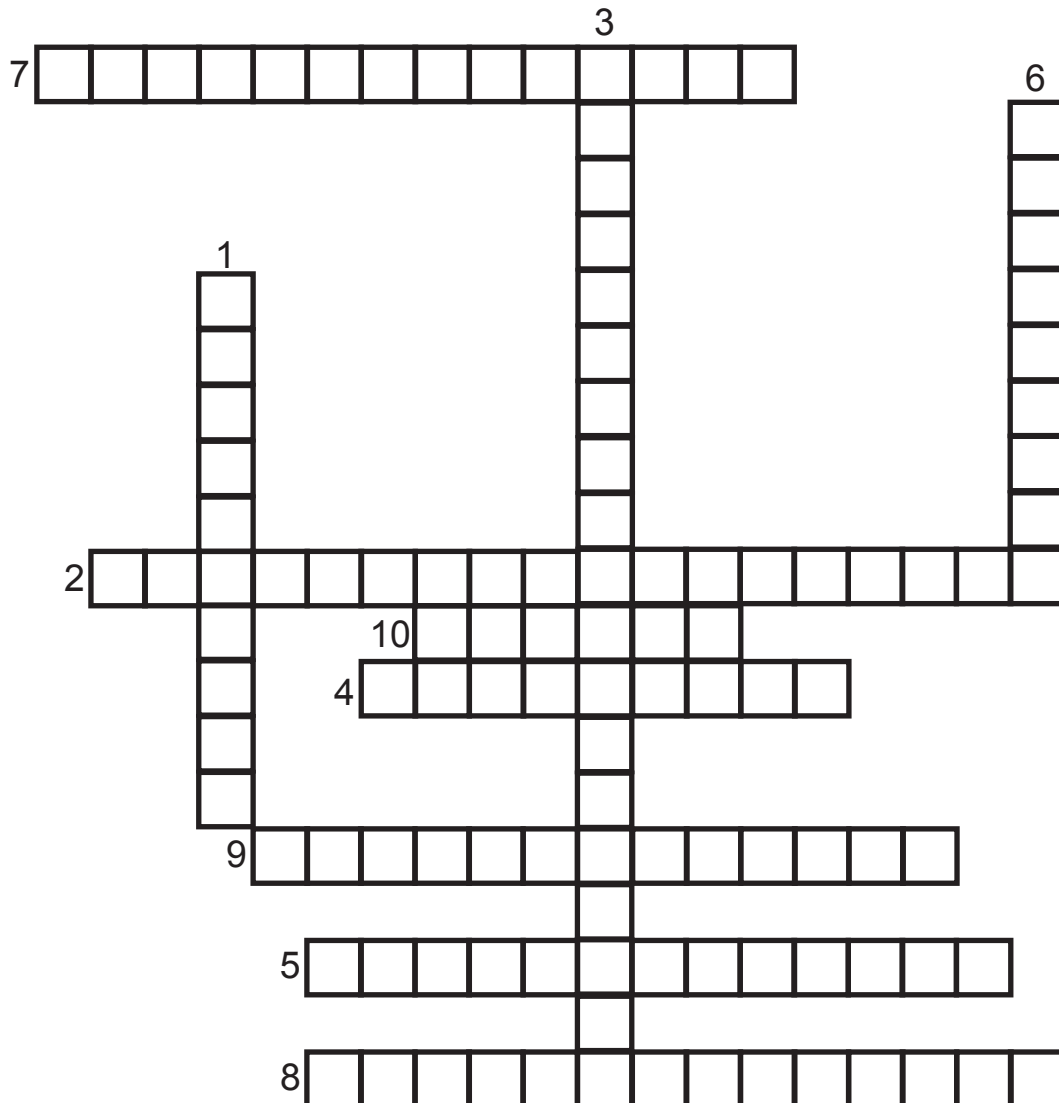
6. $612 \div 6 =$

7. $1640 \div 8 =$

8. $832 \div 4 =$

9. $255 \div 5 =$

10. $80 \div 4 =$



Crucigráma de divisiones

NOMBRE: _____ FECHA: _____

Realiza las divisiones y escribe el resultado con letra donde le corresponde.

1. $120 \div 2 =$

2. $185 \div 5 =$

3. $186 \div 3 =$

4. $660 \div 12 =$

5. $832 \div 4 =$


6. $216 \div 6 =$

7. $585 \div 13 =$

8. $156 \div 6 =$

9. $75 \div 3 =$

10. $80 \div 4 =$



Crucigrama de divisiones

NOMBRE: _____ FECHA: _____

Realiza las divisiones y escribe el resultado con letra donde le corresponde.

1. $630 \div 7 =$

2. $828 \div 9 =$

3. $819 \div 9 =$

4. $325 \div 5 =$

5. $300 \div 5 =$


6. $120 \div 4 =$

7. $832 \div 4 =$

8. $144 \div 18 =$

9. $156 \div 13 =$

10. $4040 \div 20 =$



Crucigrama de divisiones

NOMBRE: _____ FECHA: _____

Realiza las divisiones y escribe el resultado con letra donde le corresponde.

1. $189 \div 9 =$

2. $297 \div 11 =$

3. $160 \div 8 =$

4. $400 \div 2 =$

5. $320 \div 2 =$

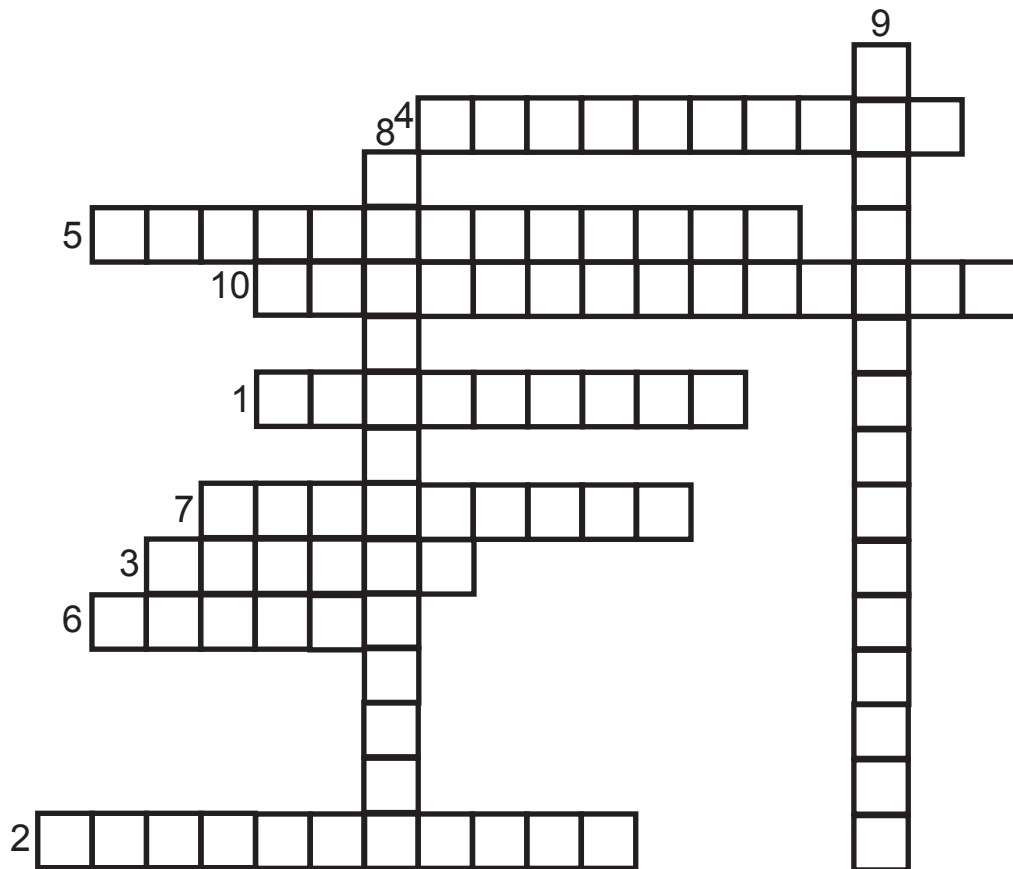
6. $20 \div 5 =$

7. $510 \div 5 =$

8. $4040 \div 20 =$

9. $1640 \div 8 =$

10. $3654 \div 18 =$



Crucigráma de divisiones

NOMBRE: _____ FECHA: _____

Realiza las divisiones y escribe el resultado con letra donde le corresponde.

1. $250 \div 10 =$

2. $48 \div 12 =$

3. $670 \div 5 =$

4. $180 \div 15 =$

5. $400 \div 10 =$

6. $114 \div 3 =$

7. $297 \div 9 =$

8. $432 \div 12 =$

9. $240 \div 6 =$

10. $272 \div 8 =$

